



# *identikit: trova la pianta e il suo nome*



## COME

Con la prima scheda, viene messa alla prova la tua memoria e la tua capacità di sintesi: gareggia con i tuoi compagni su chi risponde nel minor tempo alle domande!













La seconda scheda ti stimolerà a ricordare i diversi nomi di una pianta – tutti importanti, ricordalo!

## CONSIGLI

E per i più bravi, un consiglio: stampate, ritagliate e mischiate i quadrati con le foto, allineandole con un nuovo ordine. Inventate nuove domande per divertenti giochi di squadra.













***Fiori e frutti  
della  
macchia mediterranea***

Associa la descrizione della pianta alla foto corrispondente, riportando le coordinate dello schema (lettera+numero) nella casella.

<b>1</b>	<b>2</b>	<b>3</b>	<b>4</b>	<b>A</b>
				
				
				<b>C</b>

- |     |   |                      |
|-----|---|----------------------|
| 1.  | <u>ha infiorescenze in forma di fitti corimbi bianchi e foglie verde scuro</u>    | <b>A - 2</b>         |
| 2.  | <u>ha fiori con grandi petali "stropicciati" e foglie rugose</u>                  | <input type="text"/> |
| 3.  | <u>è una comune rampicante del sottobosco, spinosa e con foglie a cuore</u>       | <input type="text"/> |
| 4.  | <u>forma fitte siepi spinosissime e ha frutti gustosi</u>                         | <input type="text"/> |
| 5.  | <u>le sue foglioline appuntite sono in realtà rametti trasformati</u>             | <input type="text"/> |
| 6.  | <u>ha fiori bianchi con molti stami e bacche nero bluastre</u>                    | <input type="text"/> |
| 7.  | <u>ha foglie composte e forma grandi cespugli, resistenti al caldo e al vento</u> | <input type="text"/> |
| 8.  | <u>vive sulle dune di sabbia e ha foglie aghiformi riunite a tre a tre</u>        | <input type="text"/> |
| 9.  | <u>le sue foglie lanceolate e sottili ricordano quelle dell'olivo</u>             | <input type="text"/> |
| 10. | <u>forma cespugli tondeggianti che cambiano colore dal verde al rosso</u>         | <input type="text"/> |
| 11. | <u>i suoi rami crescono verso l'alto e portano in cima infiorescenze rosa</u>     | <input type="text"/> |
| 12. | <u>le foglie hanno il bordo seghettato, i frutti sono grosse bacche rosse</u>     | <input type="text"/> |

Associa ciascun nome (in italiano, latino o sardo) della pianta alla foto corrispondente, riportando le coordinate dello schema (lettera+numero) nella casella vuota; lungo la linea tratteggiata inserisci gli altri nomi che conosci della stessa pianta.

1	2	3	4	
				<b>A</b>
				<b>B</b>
				<b>C</b>

1. Mudregu femina .....
2. Viburno .....
3. Smilax aspera .....
4. Mura: .....
5. Pungitopo .....
6. Murta: .....
7. Modditzi .....
8. Ginepro coccolone .....
9. Arrideli femina .....
10. Euphorbia dendroides .....
11. Erica tirrenica .....
12. Arbutus unedo .....